



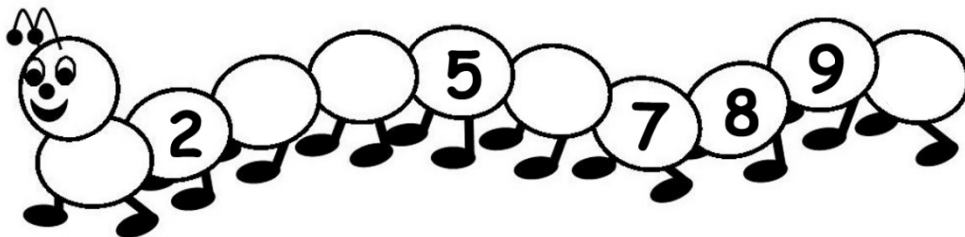
Besoek www.litnet.co.za vir gratis skole-inhoud.

Graad I

Wiskunde: Kwartaal I

Totaal: 30

1. Tel aan en voltooi:



(5)

2. Hoeveel robbe is daar?



Daar is _____ robbe.


(1)

3. Omkring die sesde plant.



(1)

4. Wat kom volgende in die patroon?



(3)

5. Tel en kleur die blokkie met die regte getal in.



3
2



8
6



3
9

(3)

6. Verbind:

drie

•

nege

•

vyf

•

een

•

ses

•



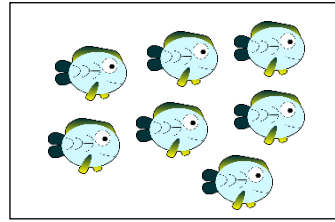
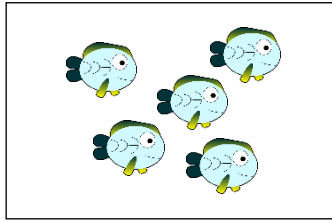

(5)

7. Trek 'n kruisie deur twee getalle wat saam 10 maak.

1 9 5 2 4 7 0

(1)

8. Trek 'n kruis deur die blok met die meeste visse.



(1)

9. Kyk na die prente. Omkring die regte antwoord.



Die koei is die grootste/kleinste.

Die muis is langs die koei/slak.

Die slak is groter/kleiner as die muis.

(3)

10. Voltooi:

7 is 3 meer as _____.

8 is 6 meer as _____.

(2)

11. Omkring die prent wat 1 minder as 6 is.



(1)

12. Minus deur terug te tel.

$$6 - 3 = \underline{\quad}$$

$$9 - 4 = \underline{\quad}$$

(2)

13. Vul die antwoorde in. Onthou, die linkerkant = die regterkant.

$$9 - 8 = 5 - \underline{\quad}$$

$$7 - \underline{\quad} = 9 - 2$$

(2)

[30]