

Hersiening

Inoefening

Vaslegging

Graad 7 – Kwartaal 1 – Heelgetalle – 2024

Inleiding oor getalle en verskillende soorte getalle; Afronding;
Verwantskappe tussen getalle; Getalpatrone;
Die vier hoofbewerkings; Veelvoude en faktore.

Die inhoud van hierdie materiaal is volgens die Jaarlikse Onderrigplan van die Departement van Basiese Onderwys 2024.

Afdeling A – Inleiding oor getalle en verskillende getalle

Wiskunde-woordeboek en -kennis!!!

1. Die groepe getalle waarmee jy gaan werk, is:

Natuurlike getalle $N = \{ 1; 2; 3; 4; \dots \}$

Telgetalle $N_0 = \{ 0; 1; 2; 3; \dots \}$

2. Verskillende soorte getalle

Ewe getalle → deelbaar deur 2 $E = \{ 2; 4; 6; 8; \dots \}$

Onewe getalle → nie deelbaar deur 2 nie $O = \{ 1; 3; 5; 7; \dots \}$

Priemgetalle → net 2 faktore – 1 en die getal self $P = \{ 2; 3; 5; 7; 11; \dots \}$

Saamgestelde getalle → meer as 2 faktore $S = \{ 4; 6; 8; 9; 10; 12; \dots \}$



Afdeling B – Afronding van getalle

Wiskunde-woordeboek en -kennis!!!

Bestudeer eers afronding tot die naaste 5

1. Onthou jy werk net met die enesyfer
2. Simbool vir afronding is \approx
3. Afronding tot 5 beteken ons werk met veelvoude van 5 [Tel in 5'e]
4. Ons werk met 5; 10; 15; 20 ens [die 5x-tafel]
5. Van 10 tot 15 is die getalle 10; 11; 12; 13; 14; 15
6. Die getalle 10, 11 en 12 rond af na 10

LEER!!!

2.

6. Die getalle 13, 14 en 15 rond af na 15

7. Kyk na die getal 37: 37 is nader aan 35 as aan 40 $\therefore 37 \approx 5 = 35$

Beantwoord die volgende vrae oor afronding tot die naaste 5:

1.1 $379 \approx 5 =$ _____

1.2 $899 \approx 5 =$ _____

1.3 $4\ 037 \approx 5 =$ _____

1.4 $78\ 373 \approx 5 =$ _____

1.5 $321\ 535 \approx 5 =$ _____

1.6 $675\ 438 \approx 5 =$ _____ (6)

Kom ons kyk na afronding tot die naaste 10; 100; 1 000 en meer:

Wiskunde-woordekat en -kennis!!!

1. Ken jou plekwaardekolomme

M	HD	TD	D	H	T	E
---	----	----	---	---	---	---

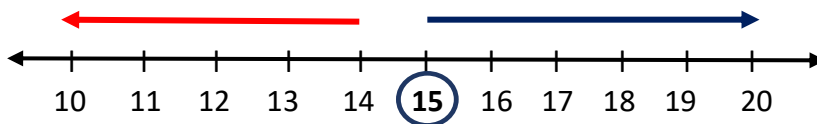
Kyk na die volgende getallelyn

1. 15 is in die middel tussen 10 en 20

2. 15; 16; 17; 18; 19 en 20 rond af na 20

3. 10; 11; 12; 13 en 14 rond af na 10

LEER!!!



4. Die getal 34 afgerond tot 10 is 30 [kyk na die E-kolom]

5. Die getal 287 afgerond tot 100 is 300 [kyk na die T-kolom]

6. Die getal 6 324 afgerond tot die naaste 1 000 is 3 000 [kyk na die H-kolom]

7. Die getal 43 087 afgerond tot die naaste 10 000 is 40 000 [kyk na die D-kolom]

8. Die getal 789 365 afgerond tot die naaste 100 000 is 800 000 [kyk na die TD-kolom]

Beantwoord die volgende vrae oor afronding:

2.1 $749 \approx 10 =$ _____

2.2 $2\ 899 \approx 100 =$ _____

2.3 $34\ 037 \approx 1\ 000 =$ _____

2.4 $98\ 376 \approx 1\ 000 =$ _____

2.5 $325\ 535 \approx 10\ 000 =$ _____

2.6 $673\ 438 \approx 10\ 000 =$ _____

2.7 $4\ 321\ 535 \approx 100\ 000 =$ _____

2.8 $3\ 675\ 438 \approx 100\ 000 =$ _____ (6)

3.

Afdeling C – Verwantskappe tussen getalle

LEER!!!

Wiskunde-woordeskat en -kennis!!!

1. Jy kan notasie en plekwaardekolomme gebruik om getalle te vergelyk
2. Kyk na die tabel

TD	D	H	T	E
5	<u>4</u>	3	2	1
5	<u>3</u>	4	2	1

3. Begin van links kyk – TD is beide 5
4. Kyk dan na D – syfers verskil
5. ∴ is $54\ 321 > 53\ 421$

Skryf die volgende getalle in stygende en dalende volgorde:

3.1 Skryf in stygende volgorde: 32 456; 23 456; 32 546; 23 546; 32 654; 23 654

_____ (1)

3.2 Skryf in dalende volgorde: 7 891; 7 198; 8 197; 8 791; 7 819; 8 971

_____ (1)

Vul die regte verwantskaptekens [$<$; $=$; $>$] in:

3.3 11×55 _____ 605

3.4 212 _____ 221

3.5 $2\ 357$ _____ $2\ 537$

3.6 $1\ 000$ _____ $10 \times 10 \times 10$

3.7 $18\ 042$ _____ $18\ 024$

3.8 $1 \times 2 \times 3 \times 0$ _____ 0 (6)

Bereken die volgende:

3.9 Verdubbel 3 360 _____ (1)

3.10 Halveer 103 068 _____ (1)

3.11 Verdubbel 11 026 _____ (1)

3.12 Halveer 482 692 _____ (1)

4.

Afdeling D – Getalpatrone

Wiskunde-woordeskat en -kennis!!!

1. Getalpatrone is 'n ry getalle met 'n sekere volgorde ["ry" beteken dit is horisontaal]
2. Kyk na die volgende getalry → 11; 13; 15; 17; 19...
3. Getalle soos hierby (by 2) is onewe getalle
4. Die interval by 2 is +2 [by elke getal word 2 bygetel]
5. Die interval bepaal die getalpatroon

LEER!!!

Bepaal die ontbrekende getalle in elke patroon:

- 4.1 23; 26; 29; _____; _____; 38 (2)
- 4.2 195; 190; 185; _____; _____; 170 (2)
- 4.3 475; 500; _____; 550; _____; 600 (2)
- 4.4 2 340; 2 290; _____; _____; 2 140 (2)

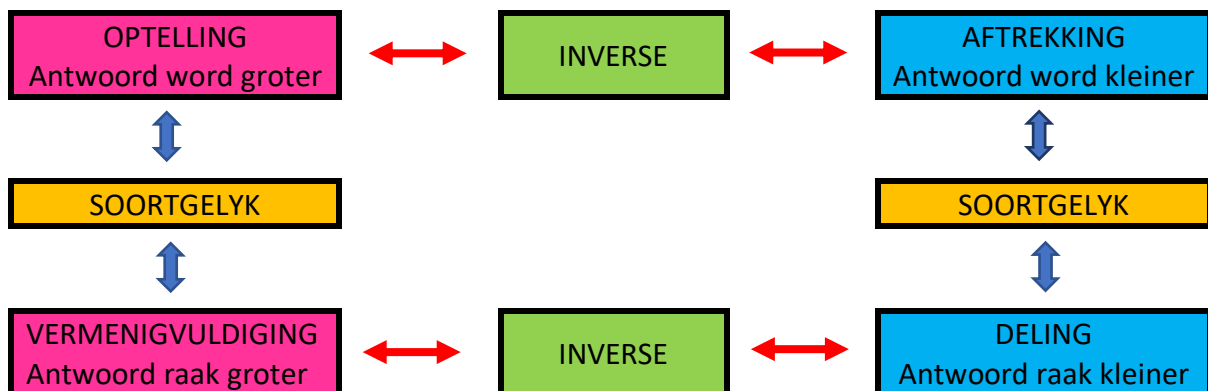
Afdeling E – Die vier hoofbewerkings

LEER!!!

Wiskunde woordeskat en kennis!!!

1. Som van → antwoord van 'n optelsom [opteltal + opteltal = som van]
2. Verskil tussen → die antwoord van 'n aftreksom [aftrektal – aftrektal = verskil]
3. Produk → die antwoord van 'n vermenigvuldigsom [vermenigvuldigtal x vermenigvuldiger = produk]
4. Kwosiënt → antwoord van 'n deelsom [deeltal ÷ deler = kwosiënt]

2. Inverse en soortgelyke bewerkings



Voltooi:

5.

5.1 $12 + 29 = \underline{\hspace{2cm}} + 12$ (1)

5.2 $43 \times \underline{\hspace{2cm}} = 18 \times 43$ (1)

5.3 $(65 + 25) + 15 = 65 + (\underline{\hspace{2cm}} + 15)$ (1)

5.4 $9 \times (10 \times 6) = (\underline{\hspace{2cm}} \times 10) \times 6$ (1)

5.5 $24 \times (15 + 35) = (24 \times 15) + (24 \times \underline{\hspace{2cm}})$ (1)

5.6 $19 \times (28 + 76) = (\underline{\hspace{2cm}} \times 28) + (19 \times 76)$ (1)

Bereken die ontbrekende getalle:

5.7 $54 + \underline{\hspace{2cm}} = 87$ _____ (1)

5.8 $34 \times \underline{\hspace{2cm}} = 136$ _____ (1)

5.9 $\underline{\hspace{2cm}} + 64 = 197$ _____ (1)

5.10 $\underline{\hspace{2cm}} \times 23 = 276$ _____ (1)

5.11 $132 \div 11 = \underline{\hspace{2cm}} \times 11$ _____ (1)

5.12 $94 + 0 = \underline{\hspace{2cm}}$ 5.13 $0 + 519 = \underline{\hspace{2cm}}$ (2)

5.14 $86 \times 0 = \underline{\hspace{2cm}}$ 5.15 $0 \times 99 = \underline{\hspace{2cm}}$ (2)

5.16 $0 \div 38 = \underline{\hspace{2cm}}$ 5.17 $65 \div 0 = \underline{\hspace{2cm}}$ (2)

Bereken en toets jou antwoord met 'n inverse bewerking:

5.18 $9\,384 + 43\,206$ _____
_____ (2)

5.19 $12\,473 - 8\,997$ _____
_____ (2)

5.20 $854 \div 23 = \square$ $23 \sqrt{854}$ _____

5.21 2085×63

6.

(2)

(2)

Afdeling F – Belangrike wette

Wiskunde-woordeskat en -kennis!!!



1. Kommutatiewe eienskap van optelling

$$a + b = b + a \rightarrow 5 + 7 = 7 + 5 \rightarrow \text{volgorde maak geen verskil}$$

2. Kommutatiewe eienskap van vermenigvuldiging

$$a \times b = b \times a \rightarrow 4 \times 6 = 6 \times 4 \rightarrow \text{volgorde maak geen verskil}$$

3. Assosiatiewe eienskap van optelling

$$a + (b + c) = (a + b) + c \rightarrow 5 + (6 + 7) = (5 + 6) + 7 \rightarrow \text{hakies maak geen verskil}$$

4. Assosiatiewe eienskap van vermenigvuldiging

$$a \times (b \times c) = (a \times b) \times c \rightarrow 7 \times (8 \times 9) = (7 \times 8) \times 9 \rightarrow \text{hakies maak geen verskil}$$

5. Distributiewe eienskap van getalle in hierdie somme

$$a \times (b + c) = ab + ac \rightarrow 2 \times (3 + 4) = (2 \times 3) + (2 \times 4)$$

Bereken:

6.1 $(19 + 45) + 21 = 19 + (\text{_____} + 21) = 19 + \text{_____} = \text{_____}$ (3)

6.2 $(9 \times 11) \times 5 = 9 \times (11 \times \text{_____}) = 9 \times \text{_____} = \text{_____}$ (3)

6.3 $6 \times (7 + 10) = (6 \times 7) + (\text{_____} \times \text{_____}) = 42 + \text{_____} = \text{_____}$ (3)

6.4 $5(6 - 2) = (\text{_____} \times \text{_____}) - (5 \times 2) = 30 - \text{_____} = 20$ (2)

Afdeling G – Volgorde van bewerkings

Wiskunde-woordeskat en -kennis!!!

1. Ken die reëls en weet wanneer om dit toe te pas

7.

REËLS:



HAKIES	()	Hein
VAN	Betekens x [vermenigvuldig]	Van
DEEL	÷	Der
MAAL	x	Merwe
OPTEL	+	Oefen
AFTREK	–	Atletiek

7.1 $25 - 13 + 9 + 34 =$ _____ (1)

7.2 $25 - (13 + 9) + 34 =$ _____ (1)

7.3 $9 \times 12 \div 3 \times 4 =$ _____ (1)

7.4 $9 \times (12 \div 3) \times 4 =$ _____ (1)

7.5 $9 \times 12 \div (3 \times 4) =$ _____ (1)

7.6 $1 + 2 \times 3 + 4 \times 5 + 6 \times 0$ _____ (1)

7.7 $7 + 7 \div 7 \times 7 - 7 + 7$ _____ (1)

Afdeling H – Veelvoude en faktore

Wiskunde-woordeskat en -kennis!!!

- Veelvoude – is die produk van enige twee natuurlike getalle:
 Veelvoude van 6: $6 \times 1 = 6; 6 \times 2 = 12; 6 \times 3 = 18 \dots$
 $V_6 = \{6; 12; 18; 24; \dots\}$
 Veelvoude van 12: $12 \times 1 = 12; 12 \times 2 = 24; 12 \times 3 = 36 \dots$
 $V_{12} = \{12; 24; 36; 48; 60; 72; 84 \dots\}$
- Faktore – alle natuurlike getalle wat presies in 'n groter getal kan indeel [sonder 'n res]
 Faktore van 12: $12 \div 1 = 12; 12 \div 2 = 6; 12 \div 3 = 4; 12 \div 4 = 3; 12 \div 6 = 2;$
 $12 \div 12 = 1$
 $F_{12} = \{1; 2; 3; 4; 6; 12\}$
 Faktore van 20: $20 \div 1 = 20; 20 \div 2 = 10; 20 \div 4 = 5; 20 \div 5 = 4; 20 \div 10 = 2;$
 $20 \div 20 = 1$
 $F_{20} = \{1; 2; 4; 5; 10; 20\}$
- ONTHOU – 1 is nie 'n priemgetal of 'n saamgestelde getal nie!!!**
- Saamgestelde getalle – alle natuurlike getalle met meer as 2 faktore
 $4 [1; 2; 4] \quad 6 [1; 2; 3; 6] \quad 8 [1; 2; 4; 8] \quad 9 [1; 3; 9]$
- Priemgetalle – getalle met net 2 faktore [die getal self en 1]
 $2 [1; 2] \quad 3 [1; 3] \quad 5 [1; 5] \quad 7 [1; 7] \quad 11 [1; 11]$
- Priemfaktore – al die faktore van 'n natuurlike getal wat priemgetalle is

$$F_{24} = \{1; 2; 3; 4; 6; 8; 12; 24\}$$

$$Priemfaktore_{24} = \{2; 3\}$$

8.

Bestudeer die ry natuurlike getalle en voltooi die volgende vrae:

19 34 8 64 11 31 28 51 26 27 10 4

8.1 Noem al die ewe getalle _____ (1)

8.2 Noem al die onewe getalle _____ (1)

8.3 Noem al die saamgestelde getalle _____ (1)

8.4 Noem al die priemgetalle _____ (1)

8.5 Noem al die veelvoude van 4 _____ (1)

8.6 Noem al die faktore van 64 _____ (1)

Afdeling I – KGV en GGF

Wiskunde-woordeskat en -kennis!!!

1. KGV → Kleinste Gemene Veelvoud is die kleinste gemene getal waarin al die getalle presies kan indeel. Kan slegs met 2 of meer getalle bepaal word.

$$\text{KGV van 4 en 5} \quad V_4 = \{4; 8; 12; 16; 20; 24; 28\}$$

$$V_5 = \{5; 10; 15; 20; 25\}$$

20 is die eerste getal waarin 4 en 5 presies kan indeel

∴ is die KGV van 4 en 5 → 20

2. GGF → Grootste Gemene Faktor is die grootste getal wat presies in daardie getalle kan indeel. Kan slegs met 2 of meer getalle bepaal word.

$$\text{GGF van 6 en 12} \quad F_6 = \{1; 2; 3; 6\}$$

$$F_{12} = \{1; 2; 3; 4; 6; 12\}$$

6 is die grootste faktor wat in 6 en 12 presies kan indeel

∴ is die GGF van 6 en 12 → 6

Bepaal die KGV en GGF van die volgende getalle:

9.1 2 en 7 _____

(6)

9.

9.2 5 en 11

(6)

9.3 6 en 21

(6)

9.4 9; 18 en 36

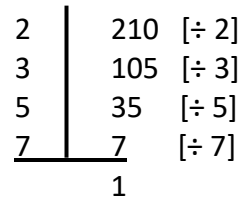
(8)

Afdeling J – Produk van priemfaktore

Wiskunde-woordeskat en -kennis!!!

1. Skryf 210 as die produk van sy priemfaktore.

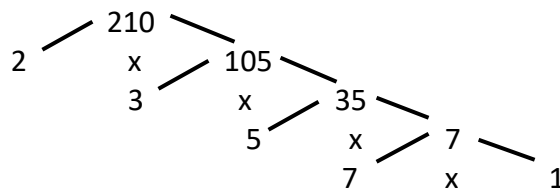
$$\therefore 210 = 2 \times 3 \times 5 \times 7$$



2. Jy deel net met priemgetalle en begin by 2

3. Die faktorboom kan ook gebruik word

$$\therefore 210 = 2 \times 3 \times 5 \times 7$$



Skryf elke getal as die produk van sy priemfaktore:

[Gebruik jou eie metode]

10.1 50

10.2 108

10.3 363

(2)

(3)

(2)

10.

KIDS GENIUS PROGRAM

- Gooi 3 veerpyltjies na hierdie bord.
- Hoeveel kombinasies kan jy vind wat vir jou 'n totaal van 50 sal gee?
- Skryf al jou kombinasies neer.
- Al drie pyltjies moet in die bord wees. Jy mag nie misgooi nie.

