



Kwartaal 1, Toets 2023

Vraag 1

1.1 Gebruik die getalleblok en beantwoord die vrae wat volg:

1	2	3	4	5	6	7	8	9	10
11	12	13	14	15	16	17	18	19	20
21	22	23	24	25	26	27	28	29	30
31	32	33	34	35	36	37	38	39	40
41	42	43	44	45	46	47	48	49	50
51	52	53	54	55	56	57	58	59	60
61	62	63	64	65	66	67	68	69	70
71	72	73	74	75	76	77	78	79	80
81	82	83	84	85	86	87	88	89	90
91	92	93	94	95	96	97	98	99	100

1.1.1 Tel aan in ene vanaf 88 tot 99. Kleur al hierdie blokkies rooi in. (1)

1.1.2 Tel terug in tiene vanaf 70 tot 10. Kleur al hierdie blokkies groen in. (1)

1.1.3 Tel aan in vywe vanaf 35 tot 75. Kleur al hierdie blokkies blou in. (1)

1.1.4 Tel terug in tweeë vanaf 66 tot 44. Kleur al hierdie blokkies pers in. (1)

1.2 Skryf die regte getalsimbool langs elke getalnaam neer: (5)

1.2.1	Sewe-en-negentig	
1.2.2	Tweehonderd-en-agt	
1.2.3	Driehonderd-en-vyftig	
1.2.4	Agthonderd-sewe-en-sestig	
1.2.5	Negehonderd-nege-en-negentig	

1.3 Skryf die regte getalnaam langs elke getalsimbool neer: (5)

1.3.1	8	
1.3.2	11	
1.3.3	17	
1.3.4	21	
1.3.5	25	

1.4 Orden die volgende getalle van groot na klein: (1)

13; 25; 14; 16; 20; 9; 5

--

1.5 Orden die volgende getalle van klein na groot: (1)

20; 6; 9; 18; 17; 5; 12

--

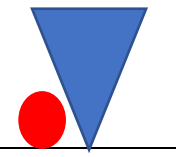

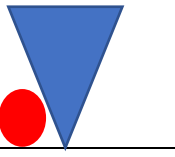
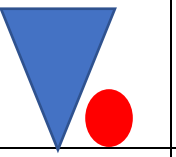

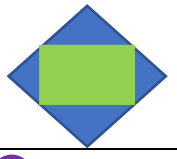
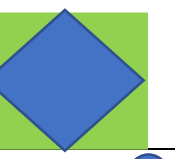
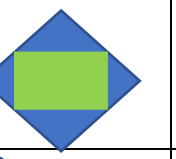

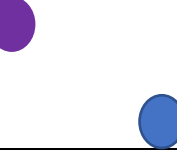


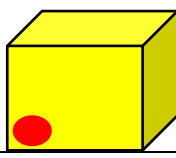
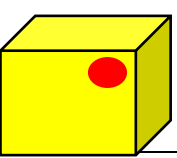
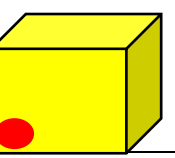
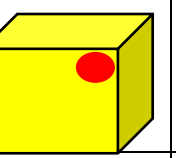
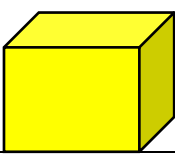
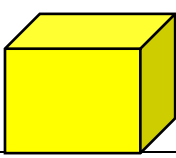




[16]

Vraag 2

Sien jy 'n patroon raak?

Teken die volgende twee prente in elkeen van die volgende patrone: (10)

√ 1 punt vir elke regte prent in die patroon voltooi.

2.1						
2.2						
2.3						
2.4						
2.5						

[10]

Vraag 3

3.1 Breek elkeen van die volgende getalle op volgens hul plekwaardes: (5)

Voorbeeld	11	10 + 1	
3.1.1	15		
3.1.2	18		
3.1.3	19		
3.1.4	21		
3.1.5	23		

3.2 Jana het R8 in haar beursie en ontvang nog R10 by haar ma omdat sy die skottelgoed gewas het, hoeveel geld het sy nou altesaam? (2)

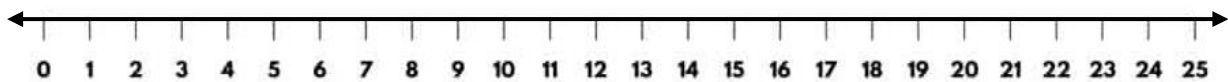
3.3 Lisa verjaar en gaan vir elke maat in haar klas 3 stukkies koek gee. Haar ma sorg dat daar altesaam 18 stukkies koek is. Hoeveel maats is in haar klas? (2)

--	--

3.4 Voltooi: (10)

	2 minder		2 meer
3.4.1		15	
3.4.2		19	
3.4.3		21	
3.4.4		23	
3.4.5		25	




3.5 Gebruik die getallelyn en bereken: (9)



3.5.1	11	+	5	=	
3.5.2	15	+	2	=	
3.5.3	11	+	6	=	
3.5.4	12	-	3	=	
3.5.5	16	-	4	=	
3.5.6	18	-	5	=	
3.5.7	2	x	3	=	
3.5.8	4	x	2	=	
3.5.9	2	x	5	=	

3.6.1 Skryf neer hoeveel geld elkeen van die volgende maats in hul spaarblikkies het: (5)

3.6.1.1		Lara
3.6.1.2		Claude

3.6.1.3		Klara
3.6.1.4		Hanna
3.6.1.5		Wian

3.6.2 Watter maat het die minste geld in sy/haar beursie? (1)

[34]


Vraag 4

4.1 Omkring al die voorwerpe wat sal rol: (3)

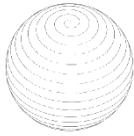


4.2 Pas die vorms by hul korrekte benaming:

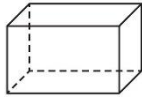
(3)



Sfeer



Prisma



Silinder

[6]

Vraag 5

5.1 Vul die ontbrekende dae van die week in:

(3)

Maandag		Woensdag		Vrydag		Sondag
---------	--	----------	--	--------	--	--------

5.2 Beskou die kalender en beantwoord die vrae wat volg:

2023

Januarie	Februarie		April
Ma Di Wo Do Vr Sa So 1 2 3 4 5 6 7 8 9 10 11 12 13 14 15 16 17 18 19 20 21 22 23 24 25 26 27 28 29 30 31	Ma Di Wo Do Vr Sa So 1 2 3 4 5 6 7 8 9 10 11 12 13 14 15 16 17 18 19 20 21 22 23 24 25 26 27 28		Ma Di Wo Do Vr Sa So 1 2 3 4 5 6 7 8 9 10 11 12 13 14 15 16 17 18 19 20 21 22 23 24 25 26 27 28 29 30
	Junie		Augustus
	Ma Di Wo Do Vr Sa So 1 2 3 4 5 6 7 8 9 10 11 12 13 14 15 16 17 18 19 20 21 22 23 24 25 26 27 28 29 30		Ma Di Wo Do Vr Sa So 1 2 3 4 5 6 7 8 9 10 11 12 13 14 15 16 17 18 19 20 21 22 23 24 25 26 27 28 29 30 31
September		November	Desember
Ma Di Wo Do Vr Sa So 1 2 3 4 5 6 7 8 9 10 11 12 13 14 15 16 17 18 19 20 21 22 23 24 25 26 27 28 29 30		Ma Di Wo Do Vr Sa So 1 2 3 4 5 6 7 8 9 10 11 12 13 14 15 16 17 18 19 20 21 22 23 24 25 26 27 28 29 30	Ma Di Wo Do Vr Sa So 1 2 3 4 5 6 7 8 9 10 11 12 13 14 15 16 17 18 19 20 21 22 23 24 25 26 27 28 29 30 31

5.2.1 Vul die name van die ontbrekende maande op die kalender in.

(4)

5.2.2 Hoeveel dae het Oktober 2023?

(1)

5.2.3 Hoeveel weke het Augustus 2023?

(1)

5.2.4 Omkring die volgende publieke vakansiedae:

(2)

24 September 2023 Erfenisdag

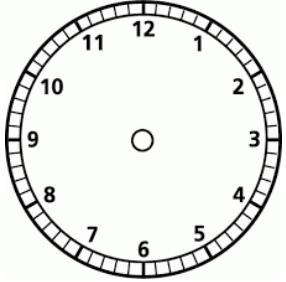
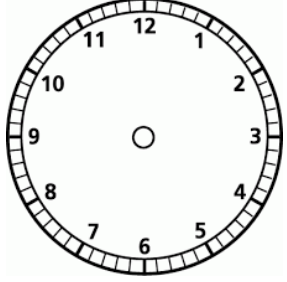
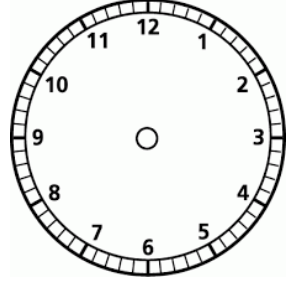
25 September 2023 Publieke Vakansiedag

5.2.5 Hoeveel skooldae het September 2023?

(1)

5.3 Teken die uur- en minuutwysers op elkeen van die volgende horlosies in om die korrekte tyd aan te dui:

(3)





		
Drieuur	Halfsewe	Elfuur

[15]

Vraag 6

Die piktoogram toon aan hoeveel van elke soort plant in Rian se tuin gevind kan word:

Skaal: elke prent = 2 items

Rose	
Lelies	
Vrugtebome	
Varkoor- blomme	

6.1 Hoeveel rose is in Rian se tuin?

(1)

6.2 Van watter plant word daar net 4 van in Rian se tuin aangetref?

(1)

6.3 Hoeveel meer varkoor-blomme as rose is in Rian se tuin?

(1)

6.4 Hoeveel minder rose as lelies is daar in Rian se tuin?

(1)

[4]

[85]