



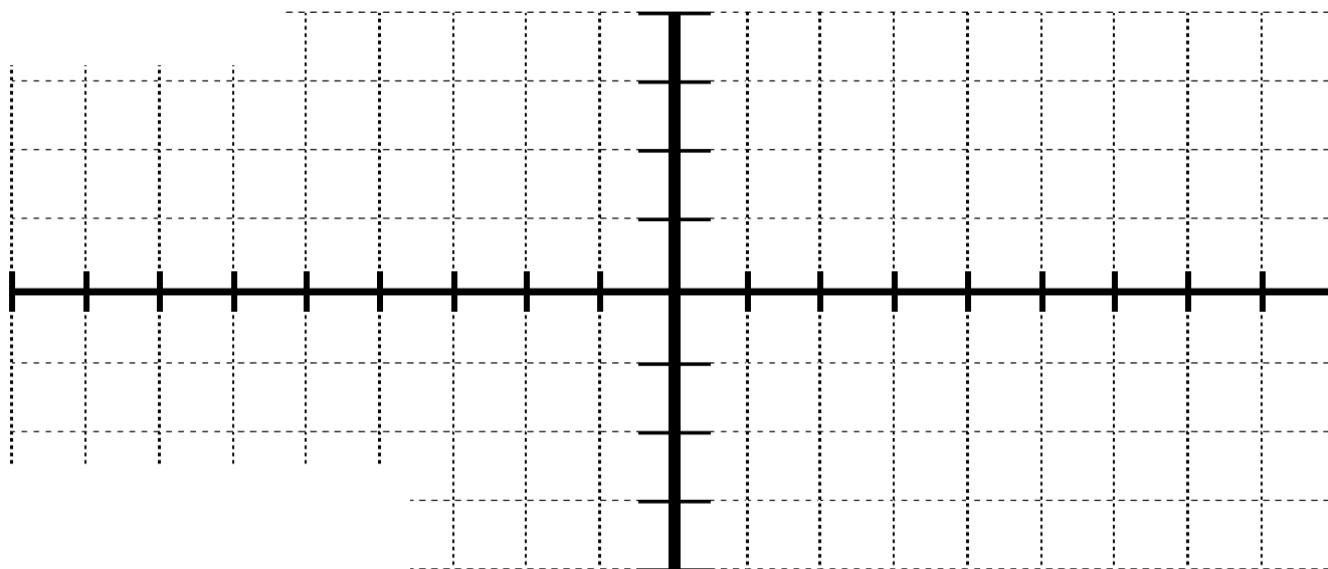
Vraag 1

1.1) Gegee: $f(x) = 2\tan x - 1$ en $g(x) = -\cos x + 1$

1.1.1) Skryf die periode van $f(x)$ neer. (1)

1.1.2) Skryf die amplitude van $g(x)$ neer. (1)

1.1.3) Teken $f(x)$ en $g(x)$ op dieselfde assestelsel hier onder, indien $x \in [0^\circ; 360^\circ]$.
Toon duidelik alle afsnitte met die asse, draaipunte en asimptote. (6)

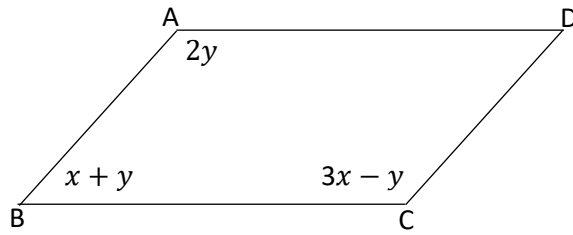


1.1.4) Bepaal die vergelyking van $h(x)$ indien $h(x)$ gevorm word deur $f(x)$ in die x -as te reflekteer en dan 2 eenhede af te skuif. (2)

Vraag 2

Die sketse in hierdie vraag is nie volgens skaal geteken nie.

2.1) Beskou parallellogram ABCD en beantwoord die vrae wat volg:



2.1.1) Bereken die groottes van die binnehoeke van parallellogram ABCD.

(7)

2.1.2) Indien $AD = 4,5$ cm en $\frac{AD}{DC} = 1,5$, bereken die lengtes van AB, BC en DC.

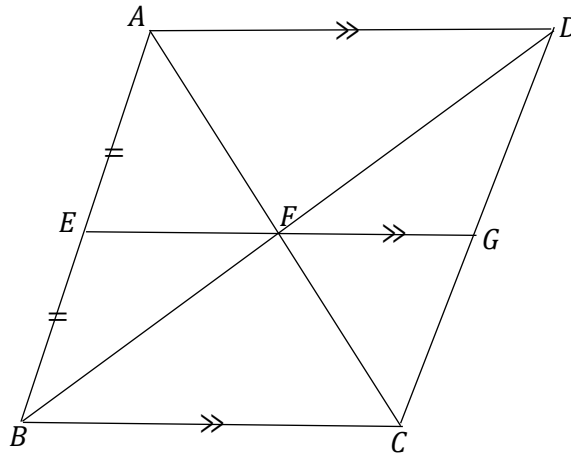
(3)

2.1.3) Vervolgens, watter tipe vierhoek is ABCD? Verskaf 'n rede vir jou antwoord.

(2)

--

2.2)



Bewys dat ABCD 'n parallelogram is.

(3)

[15]

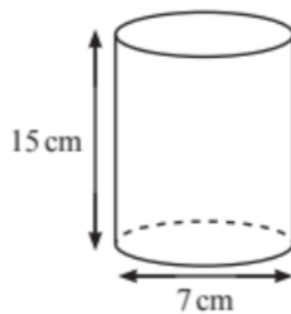
Vraag 3

Rond jou antwoorde in hierdie vraag tot twee desimale syfers af.

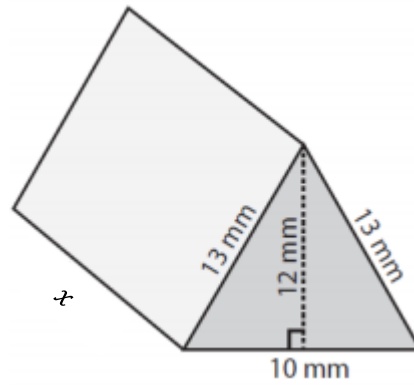
3.1) Voltooi die volgende algemene formule om die totale buite-oppervlakte van enige prisma te bepaal:

TBO = 2 (_____) + (omtrek van die basis) x _____ (2)

3.2) Bepaal die onderstaande silinder se totale buite-oppervlakte (in mm^2). (5)

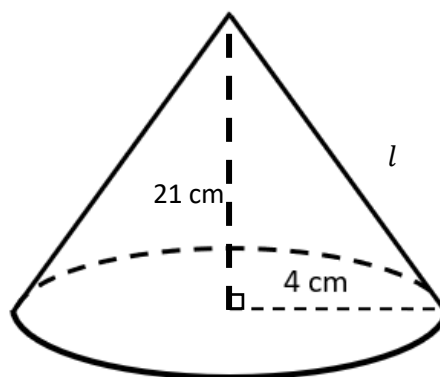


- 3.3) Die onderstaande driehoekige prisma het 'n totale buite-oppervlakte van 654 mm^2 . Bereken die hoogte (x) van die prisma. (4)



- 3.4) 'n Kubus se afmetings word met 'n skaalfaktor van 4 vergroot. Wat sal die invloed hiervan op die kubus se totale buite-oppervlakte wees? (1)

- 3.5) Beskou die onderstaande kegel en beantwoord die vrae wat volg:
Totale buite oppervlakte = $\pi r l + \pi r^2$



- 3.5.1) Bereken die skuinshoogte (l) van die bostaande kegel. (2)

3.5.2) Bereken die totale buite-oppervlakte van die kegel.

(3)

[17]

Vraag 4

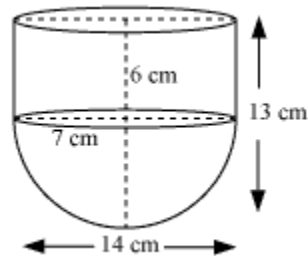
4.1) Voltooi die volgende algemene formule om die volume van enige prisma te bepaal:

Volume = 2 (_____) x _____

(2)

4.2) Beskou die onderstaande watertenk en beantwoord die vrae wat volg:

Volume van 'n sfeer = $\frac{4}{3}\pi r^3$



4.2.1) Bereken die volume van die bostaande watertenk.

Rond jou antwoord af tot die naaste cm^3 .

(5)

4.2.2) Bepaal die kapasiteit van die watertenk in *ml*.

(1)

--

[8]

Totaal: [50]