



Vraag 1

1.1) Gegee: $f(x) = 2\tan x - 1$ en $g(x) = -\cos x + 1$

1.1.1) Skryf die periode van $f(x)$ neer. (1)

180°✓

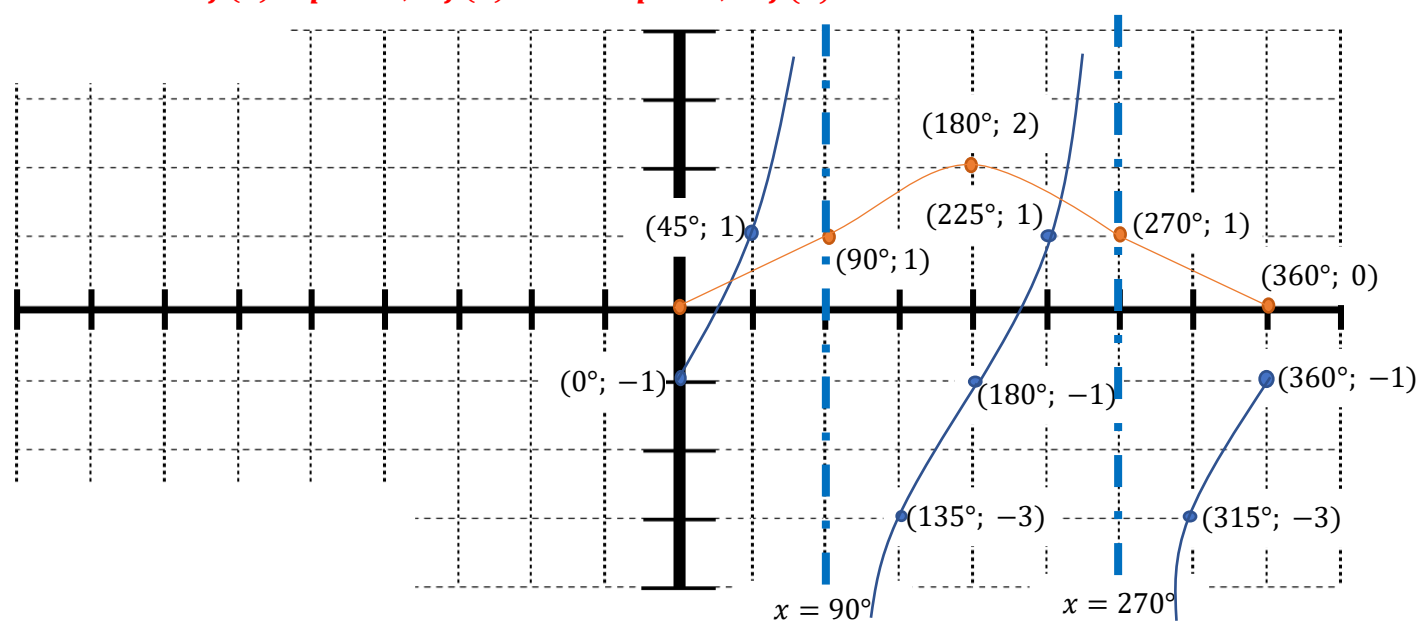
1.1.2) Skryf die amplitude van $g(x)$ neer. (1)

1✓

1.1.3) Teken $f(x)$ en $g(x)$ op dieselfde assestelsel hier onder, indien $x \in [0^\circ; 360^\circ]$.
Toon duidelik alle afsnitte met die asse, draaipunte en asimptote. (6)

✓ $g(x)$ – x -afsnitte; ✓ $g(x)$ – draaipunt; ✓ $g(x)$ – vorm

✓ $f(x)$ – punte; ✓ $f(x)$ – asimptote; ✓ $f(x)$ – vorm



1.1.4) Bepaal die vergelyking van $h(x)$ indien $h(x)$ gevorm word deur $f(x)$ in die x -as te reflekteer en dan 2 eenhede af te skuif. (2)

$h(x) = -f(x) - 2$

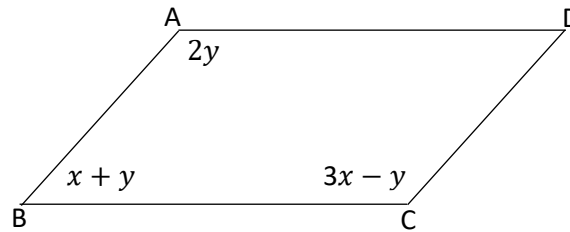
$h(x) = -(2\tan x - 1) - 2$

$h(x) = -2\tan x - 1$ ✓

Vraag 2

Die sketse in hierdie vraag is nie volgens skaal geteken nie.

2.1) Beskou parallelogram ABCD en beantwoord die vrae wat volg:



2.1.1) Bereken die groottes van die binnehoeke van parallelogram ABCD. (7)

$$x + y + 3x - y = 180^\circ \checkmark \text{ [bo-binne } \angle e; AB // CD] \checkmark$$

$$4x = 180^\circ$$

$$x = 45^\circ \checkmark$$

$$2y = 3x - y \checkmark \text{ [teenoorstaande } \angle e \text{ van parallelogram is } =] \checkmark$$

$$3y = 3x$$

$$y = 45^\circ \checkmark$$

$$\hat{A} = 90^\circ; \hat{B} = 90^\circ; \hat{C} = 90^\circ; \hat{D} = 90^\circ \checkmark$$

2.1.2) Indien $AD = 4,5 \text{ cm}$ en $\frac{AD}{DC} = 1,5$, bereken die lengtes van AB, BC en DC. (3)

$$\frac{4,5 \text{ cm}}{DC} = 1,5$$

$$DC = 4,5 \div 1,5 = 3 \text{ cm} \checkmark$$

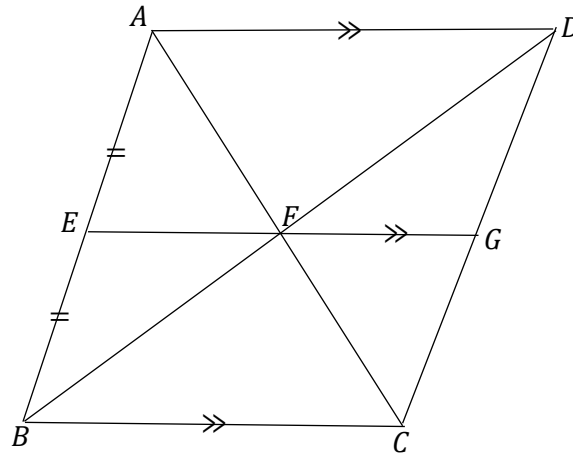
$$AB = 3 \text{ cm} \text{ [teenoorstaande sye van parallelogram is } =] \checkmark$$

$$BC = 4,5 \text{ cm} \text{ [teenoorstaande sye van parallelogram is } =] \checkmark$$

2.1.3) Vervolgens, watter tipe vierhoek is ABCD? Verskaf 'n rede vir jou antwoord. (2)

$$ABCD \text{ is 'n reghoek} \checkmark \text{ [ABCD is 'n parallelogram met binnehoeke van } 90^\circ] \checkmark$$

2.2)



Bewys dat ABCD 'n parallelogram is.

(3)

$AF = FC$ [Omgekeerde-middelpunt-stelling] ✓

$DF = FB$ [Omgekeerde-middelpunt-stelling] ✓

$ABCD$ is 'n parallelogram [hoeklyne halveer mekaar] ✓

[15]

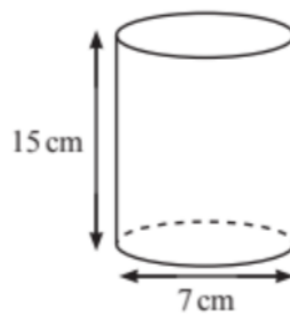
Vraag 3

Rond jou antwoorde in hierdie vraag tot twee desimale syfers af.

3.1) Voltooi die volgende algemene formule om die totale buite-oppervlakte van enige prisma te bepaal:

$TBO = 2$ (oppervlakte van die basis) ✓ + (omtrek van die basis) x loodregte hoogte ✓ (2)

3.2) Bepaal die onderstaande silinder se totale buite-oppervlakte (in mm^2). (5)



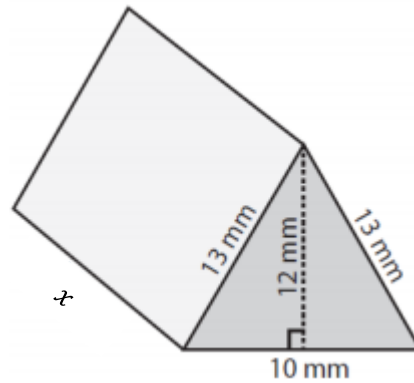
$TBO = 2(\pi \cdot r^2) + (2\pi r) \cdot H$ ✓

$TBO = 2(\pi(3,5)^2) + (2\pi(3,5)) \times 15$ ✓

$TBO = 406,8362 \dots cm^2$ ✓

$TBO = 40\,683,62 mm^2$ ✓

- 3.3) Die onderstaande driehoekige prisma het 'n totale buite-oppervlakte van 654 mm^2 . Bereken die hoogte (x) van die prisma. (4)



$$TBO = 2 \left(\frac{1}{2} \cdot b \cdot h \right) + (S + S + S) \cdot H \checkmark$$

$$654 \checkmark = 2 \left(\frac{1}{2} \cdot 10 \cdot 12 \right) + (13 + 13 + 10) \cdot x \checkmark$$

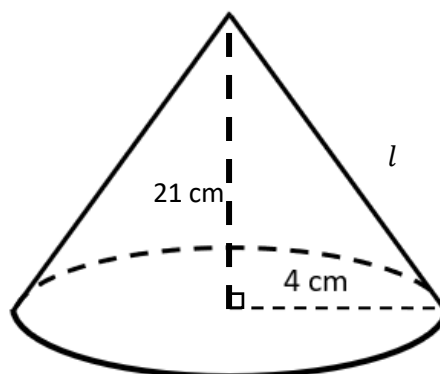
$$\frac{654 - 2 \left(\frac{1}{2} \cdot 10 \cdot 12 \right)}{(13 + 13 + 10)} = x$$

$$14,83 \text{ mm} = x \checkmark$$

- 3.4) 'n Kubus se afmetings word met 'n skaalfaktor van 4 vergroot. Wat sal die invloed hiervan op die kubus se totale buite-oppervlakte wees? (1)

TBO sal met 'n faktor van $4^2/16$ vergroot. \checkmark

- 3.5) Beskou die onderstaande kegel en beantwoord die vrae wat volg:
Totale buite oppervlakte = $\pi r l + \pi r^2$



- 3.5.1) Bereken die skuinshoogte (l) van die bostaande kegel. (2)

$$l^2 = 21^2 + 4^2 \text{ [Pyth]} \checkmark$$

$$l = 21,38 \text{ cm} \checkmark$$

3.5.2) Bereken die totale buite-oppervlakte van die kegel.

(3)

$$TBO = \pi r l + \pi r^2$$

$$TBO = \pi(4)(21,38)\sqrt{+}\pi(4)^2\sqrt{}$$

$$TBO = 318,93 \text{ cm}^2\sqrt{}$$

[17]

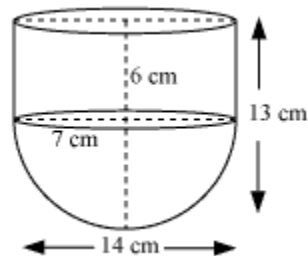
Vraag 4

4.1) Voltooi die volgende algemene formule om die volume van enige prisma te bepaal:

$$\text{Volume} = 2 \text{ (oppervlakte van die basis}\sqrt{) \times \text{loodregte hoogte}\sqrt{}$$
 (2)

4.2) Beskou die onderstaande watertenk en beantwoord die vrae wat volg:

$$\text{Volume van 'n sfeer} = \frac{4}{3} \pi r^3$$



4.2.1) Bereken die volume van die bostaande watertenk.

Rond jou antwoord af tot die naaste cm^3 .

(5)

$$V = \pi r^2 H\sqrt{+}\left(\frac{4}{3} \pi r^3\right) \div 2$$

$$V = \pi(7)^2 \cdot 6\sqrt{+}\sqrt{\left(\frac{4}{3} \pi(7)^3\right) \div 2}\sqrt{}$$

$$V = 1\,642 \text{ cm}^3\sqrt{}$$

4.2.2) Bepaal die kapasiteit van die watertenk in ml .

(1)

$$1\,642 \text{ ml}\sqrt{}$$

[8]

Totaal: [50]