



Province of the
EASTERN CAPE
EDUCATION

Vlak Kode

GRONDSLAG

FASE

GRAAD 3

JUNIE 2011

GESYFERDHEID AFRIKAANS

Leerder se naam: _____

Skool se naam: _____

Distrik: _____

PUNTE: 40

TYD: Hierdie toets duur 50 minute.

**Nota: Leerlinge moet onafhanklik werk. Die onderwyser moet 'n verduideliking verskaf
wanneer nodig.**

INSTRUKSIES EN INLIGTING AAN LEERDERS

1. Skryf jou antwoorde in die spasies op die vraestel.
 2. Skryf netjies en duidelik.
 3. Jy mag 'n getalleblok en getallelyne gebruik as jy dit nodig het.
 4. Jy mag prentjies teken waar nodig.
 5. Hierdie toets duur 50 minute.
 6. Sakrekenaars mag nie gebruik word nie.
 7. Jou onderwyser/es gaan jou help om die voorbeeld oefeninge te beantwoord voordat jy die toets begin.
-

Voorbeeld oefeninge**Voorbeeld 1**

Bereken: $35 + 24$

NB. Die vraag kan op een van die volgende maniere beantwoord word:

$$30 + 20 = 50$$

$$5 + 4 = 9$$

$$50 + 9 = 59$$

Voorbeeld 2

Merk (✓) die blokkie langs die getallepatroon wat korrek is.

a. 44, 46, 49, 50, 52, 54


b. 44, 45, 48, 50, 52, 54

c. 44, 46, 48, 50, 52, 54

Let wel:

- In hierdie toets sal jy nog meer van hierdie tipe vrae beantwoord.
- Doen jou bes om al die vrae te beantwoord, alhoewel jy soms onseker mag wees met 'n antwoord.
- Skryf jou beste antwoord neer en gaan na die volgende vraag.
- Blaai om na die volgende bladsy nadat jy al die vrae op 'n bladsy beantwoord het.
- Kyk slegs na jou eie werk.

Die toets begin op die volgende bladsy.

Geniet die toets! 

1. Skryf die waarde van die onderstreepte syfer in elk van die getalle neer.

a. $\underline{4}69 \rightarrow \underline{\hspace{2cm}}$

b. $2\underline{4}8 \rightarrow \underline{\hspace{2cm}}$

(2)

2. Tel die ballonne en skryf die syfer en daarna die getallenaam neer.




a. Syfer: $\underline{\hspace{2cm}}$

b. Getallenaam: $\underline{\hspace{4cm}}$

(2)

3. Verdubbel die getal.

$39 \rightarrow \underline{\hspace{2cm}}$



(1)

4. Verdeel die getalle in die helfte.

a. $76 \rightarrow \underline{\hspace{2cm}}$

b. $83 \rightarrow \underline{\hspace{2cm}}$

(2)

5. Volg die patroon en teken die 11^{de} vorm in die patroon.



$\underline{\hspace{4cm}}$

(1)

6. Skryf die ontbrekende getalle in die getalpatrone neer.

a. $136; 156; 176; \underline{\hspace{1cm}}; \underline{\hspace{1cm}}$

b. $200; 195; \underline{\hspace{1cm}}; 185; \underline{\hspace{1cm}}$

c. $334; \underline{\hspace{1cm}}; 338; \underline{\hspace{1cm}}; 342$

(3)

7. Vul die getalle in wat die volgende getallesinne waar sal maak.

- a. $268 = 8 + 50 + \underline{\quad} + 200$
 b. $372 = 300 + \underline{\quad} + 2$
 c. $\underline{\quad} + 30 = 81$
 d. $\underline{\quad} \div 5 = 7$
 e. $9 \times \underline{\quad} = 27$



(5)

8. Kyk na die getalle.

- a. Skryf die getalle in die korrekte volgorde van groot na klein.

325	375	425	350	400

- b. Ek tel terug in _____.

(2)

9. Dirk het R37. Hy koop 'n roomys vir R3 en tel daarna 'n R5-muntstuk op. Hoeveel geld het hy nou?

R_____

Werkspasie:

(2)

10. Doen die volgende somme in die werkspasie blok en skryf die antwoorde neer.

a. $36 + 43 =$ _____

b. $97 - 45 =$ _____

Werkspasie:

(2)

11. Doen die volgende somme in die werkspasie blok en skryf die antwoorde neer.

a. $328 + 139 =$ _____

b. $476 - 237 =$ _____

Werkspasie:

(6)

12. Kim se ouma gee vir haar 22 lemoene om gelykop tussen haar 4 vriende te verdeel. Hoeveel lemoene en dele daarvan sal elke vriend kry?

_____ lemoene



Werkspasie:

(2)

13. My ma het 7 boksies. Sy pak 6 eiers in elke boksie om by die mark te verkoop. Hoeveel eiers het sy nodig om 7 boksies vol te maak?

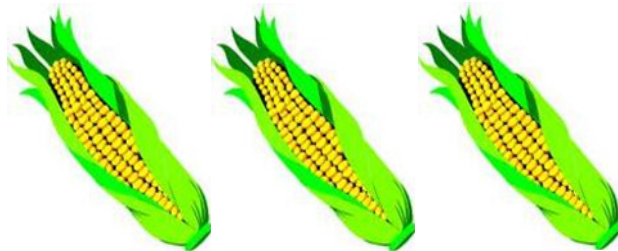
_____ eiers



Werkspasie:

(2)

14. Dina koop mielies by die winkel. As een mielie R3,50 kos, hoeveel betaal sy vir 3 mielies?



Werkspasie:

(2)

15. Kyk na die tekeninge van twee badkamer skale.

Sarie



Dawid




Wat is die verskil tussen Sarie en Dawid se gewig?

_____ kg

Werkspasie:


(2)

16. Teken 'n simmetrielyn op die volgende vorm.



(1)

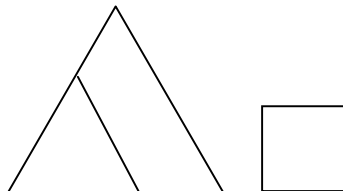
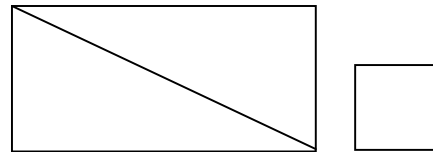
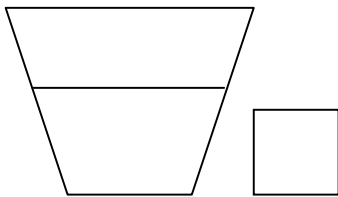
17. Kyk na die klok. Hoe laat was dit 2 uur vroeër?
Skryf die antwoord in die spasie langs die klok.



_____ : _____

(2)

18. Maak 'n regmerkie (✓) in die blokkie langs die vorm wat halwes wys.



(1)

Einde van hierdie toets!
Dankie.
😊

TOTAAL: 40