

Wiskunde Graad 4


Kwartaal 1: Tyd

Januarie 2017


Totaal: 30

Vraag 1

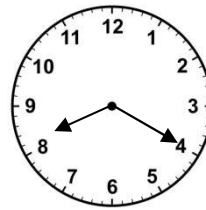
Skryf die tyd op die volgende horlosies in gewone (analoog) tyd:



1.1 _____



1.2 _____



1.3 _____ (3)

Vraag 2

Skryf die volgende as 24-uur digitale tyd

2.1 Kwart oor 7, vm _____

2.2 25 oor 4, nm _____

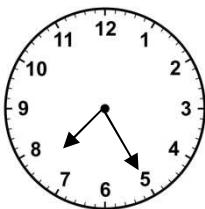
2.3 Half nege, vm _____

2.4 8:40, nm _____ (4)


Vraag 3

Skryf die tyd op die volgende horlosies volgens die 12-uur digitale horlosie:

In die aand



Jy doen huiswerk



(2)

Vraag 4

Voltooi die volgende:

4.1 2 minute = _____ sekondes

4.2 5 jaar = _____ maande

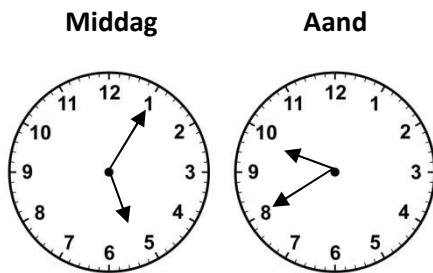
4.3 240 minute = _____ ure

4.4 63 dae = _____ weke

4.5 $6\frac{1}{4}$ ure = _____ minute (5)

Vraag 5

Kyk na die volgende horlosies en sê hoeveel tyd het verloop:



_____ (2)

Hoeveel tyd verloop van:

5.2 11:40 vm tot 3:10 nm?

(2)

5.3 2:15 nm wanneer die skool uitkom tot 7:55 nm wanneer jy gaan slaap?

(2)

Vraag 6

Skryf die volgende tye in woorde (onthou om vm of nm aan te dui):

6.1 15:30 _____

6.2 06:55 _____

6.3 16:27 _____ (3)

Vraag 7

Los die volgende woordprobleme op:

7.1 Mevrouw Stander vertrek 09:35 vanaf haar huis en is weer 11:05 terug. Hoe lank was sy weg van die huis?

(3)

7.2 Johan gaan draf een oggend 06:15. Hy draf 2 ure 55 minute lank.

7.2.1 Hoe laat is dit wanneer hy klaar gedraf het?

7.2.2 Johan moet 'n vriend 10:30 ontmoet. Hoeveel tyd het hy voor hy sy vriend moet ontmoet?

(4)

TOTAAL: 30